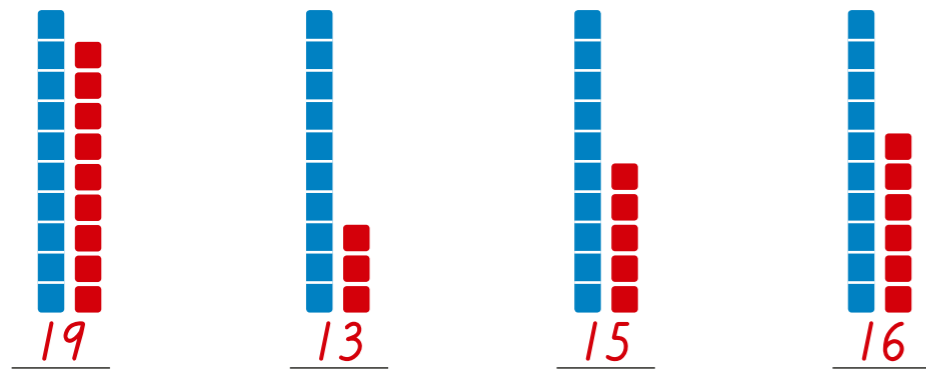
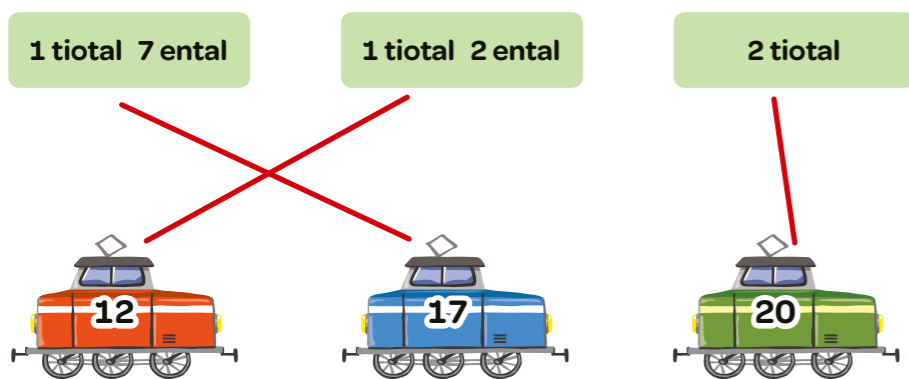


1 Skriv talet.




osäker
säker

2 Dra streck till talet.



osäker
säker

3 I vilken väska är pengarna mest värda? Ringa in.



osäker
säker

4 Skriv talet före och talet efter.

13 14 15 16 17 18 10 11 12
18 19 20 12 13 14 17 18 19

osäker
säker

5 Storleksordna talen. Börja med det minsta.

15 12 20 17 12 15 17 20
 16 13 19 14 13 14 16 19

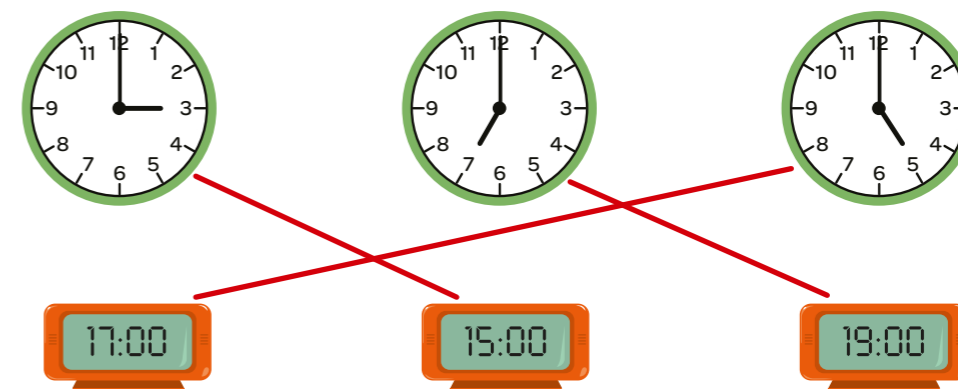
osäker
säker

6 Skriv talet som fattas.

$14 + \underline{6} = 20$ $18 + \underline{2} = 20$ $13 + \underline{7} = 20$
 $11 + \underline{9} = 20$ $15 + \underline{5} = 20$ $16 + \underline{4} = 20$

osäker
säker

7 Vad visar klockan? Dra streck.



osäker
säker

8 Vad visar klockan? Ringa in.

16:30 07:30 14:30
 halv 6 halv 8 halv 2
 halv 5 halv 7 halv 3

osäker
säker

9 Vilket tal ska stå i stället för bilden?

$$\text{Lingon} + \text{Lingon} = 10$$

$$\text{Lingon} = \underline{5}$$

$$\text{Lingon} + 3 = \text{Lingon}$$

$$\text{Lingon} = \underline{8}$$

$$\text{Lingon} - 2 = \text{Lingon}$$

$$\text{Lingon} = \underline{6}$$

osäker

 säker

10 Skriv talen som fattas.

+ 2

11	
15	
17	
12	
16	

+ 4

10	14
11	15
16	20
12	16
15	19

osäker

 säker

11 I en skål finns 12 nappar och 6 fiskar. Hur många är det sammanlagt?

$$12 + 6 = 18$$

Svar: 18 godisbitar

osäker

 säker

12 $17 - 2 = \underline{15}$ $\underline{12} = 15 - 3$ $\underline{13} = 19 - 6$
 $16 - 5 = \underline{11}$ $\underline{14} = 19 - 5$ $\underline{16} = 18 - 2$
 $19 - 2 = \underline{17}$ $\underline{11} = 18 - 7$ $\underline{12} = 16 - 4$

osäker

 säker

13 Hur mycket får du kvar?

10 kr + 4 x 1 kr - 2 kr = ?

$$14 - 2 = 12$$

Svar: 12 kr

10 kr + 3 x 1 kr - 3 kr = ?

$$16 - 3 = 13$$

Svar: 13 kr

osäker

 säker

14 Addera och subtrahera.

10 kr + 4 x 1 kr = ?

$$13 + 4 = \underline{17}$$

$$4 + 13 = \underline{17}$$

$$17 - 4 = \underline{13}$$

$$17 - 13 = \underline{4}$$

osäker

 säker

15 Följ koden. Dra streck.

12 nappar → 6 fiskar → 18 godisbitar → 12 nappar → 6 fiskar → 18 godisbitar

osäker

 säker

16 Skriv koden för nyckelpigans väg till klubban.

↶ ↑ ↷

↑ ↑ ↶ ↑

osäker

 kan

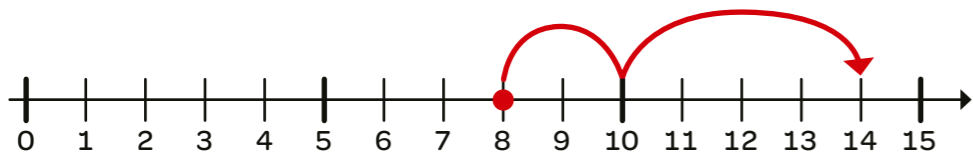
17 Vilka har samma summa? Dra streck.

4+2+6 3+5+5 7+3+4

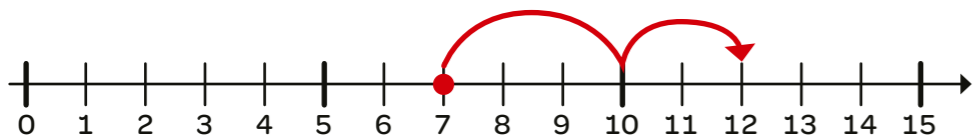
10+3 10+4 10+2

osäker
säker

18 Visa additionen på tallinjen. Addera.



$8 + 6 = 14$



$7 + 5 = 12$

osäker
säker

19 $9 + 4 = 13$ $15 = 8 + 7$ $9 + 7 = 16$
 $8 + 9 = 17$ $12 = 9 + 3$ $8 + 5 = 13$

osäker
säker

20 Vad kostar sakerna tillsammans?

7 kr 4 kr 8 kr 8 kr

$7 + 4 = 11$ $8 + 8 = 16$

Svar: 11 kr Svar: 16 kr

osäker
säker

21 $7 + 6 = 13$ $15 = 6 + 9$ $5 + 8 = 13$
 $7 + 7 = 14$ $12 = 6 + 6$ $5 + 6 = 11$

osäker
säker

22 Vad heter objekten?

Kvadrat Cirkel Triangel

osäker
säker

23 Dra streck till rätt beskrivning.

Jag har 4 hörn.
Alla sidor är lika långa.

Jag har 5 hörn.
3 sidor är lika långa.

Jag har 4 hörn.
2 sidor är lika långa.

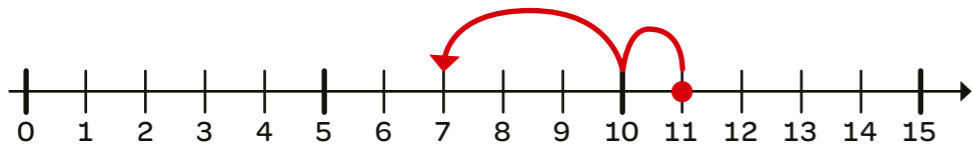
osäker
säker

24 Gör klart tanketavlan.

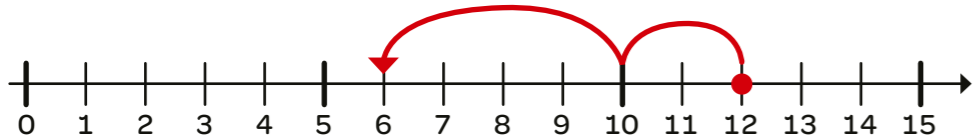
<p>Ord</p> <p>Det finns flera lösningar.</p>	<p>Symbol</p> <p>$9 + 3 = 12$</p>
<p>Bild</p> <p>Det finns flera lösningar.</p>	<p>Föremål</p>

osäker
säker

25 Visa subtraktionen på tallinjen. Subtrahera.



$11 - 4 = 7$



$12 - 6 = 6$

osäker

säker

26 $11 - 6 = 5$ $7 = 12 - 5$ $13 - 7 = 6$

$11 - 3 = 8$ $4 = 12 - 8$ $13 - 4 = 9$

osäker

säker

27 I trädkojan finns 17 lianer.
8 lianer är upptagna. Hur många är lediga?

$17 - 8 = 9$

Svar: 9 lianer

osäker

säker

28 $14 - 8 = 6$ $7 = 15 - 8$ $16 - 7 = 9$

$14 - 5 = 9$ $6 = 15 - 9$ $16 - 9 = 7$

osäker


säker

29 Uppskatta längden. Ringa in.




längre än 1 m

kortare än 1 m



längre än 1 m

kortare än 1 m



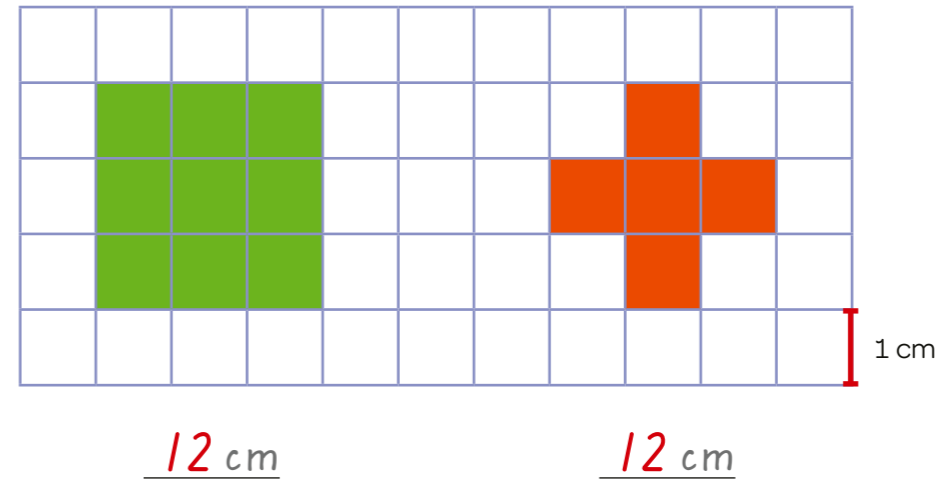
högre än 1 m

lägre än 1 m

osäker

säker

30 Hur lång är omkretsen?



osäker

säker

31 Milli har ställt 12 koppar i ett mönster på hyllan.
Fortsätt mönstret. Måla.



Hur många blå koppar och gröna koppar är det?

Svar: 4 blå koppar

Svar: 8 gröna koppar



osäker

säker

32 Fortsätt mönstret. Rita 4:e och 5:e bilden.



osäker

säker

33 Skriv talen som fattas. Räkna uppåt 10 i taget.

0 10 20 30 40 50 60 70 80 90 100

osäker
säker

34 Jämför talen. Skriv rätt tecken. > <

12 > 11 15 < 17 16 > 14
70 < 90 80 > 60 90 < 100

osäker
säker

35 Vilket är talet?

Talet är större än 60 och mindre än 80.

30 40
60 50
70

Talet är större än 20 och mindre än 40.

Talet är 70

Talet är 30

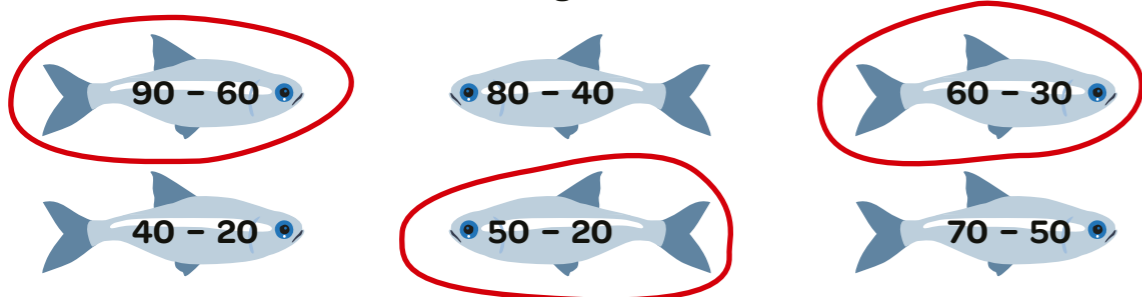
osäker
säker

36 Skriv talet som fattas.

$10 + \underline{70} = 80$ $60 = \underline{50} + 10$ $50 = 20 + \underline{30}$
 $30 + \underline{40} = 70$ $40 = \underline{20} + 20$ $90 = 30 + \underline{60}$
 $40 + \underline{50} = 90$ $60 = \underline{30} + 30$ $80 = 70 + \underline{10}$

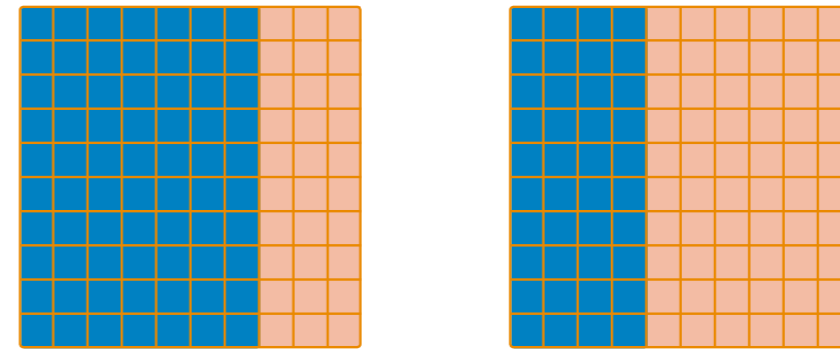
osäker
säker

37 Vilka fiskar har differensen 30? Ringa in.



osäker
säker

38 Fyll i tiotalen du lägger till. Skriv talet som fattas.

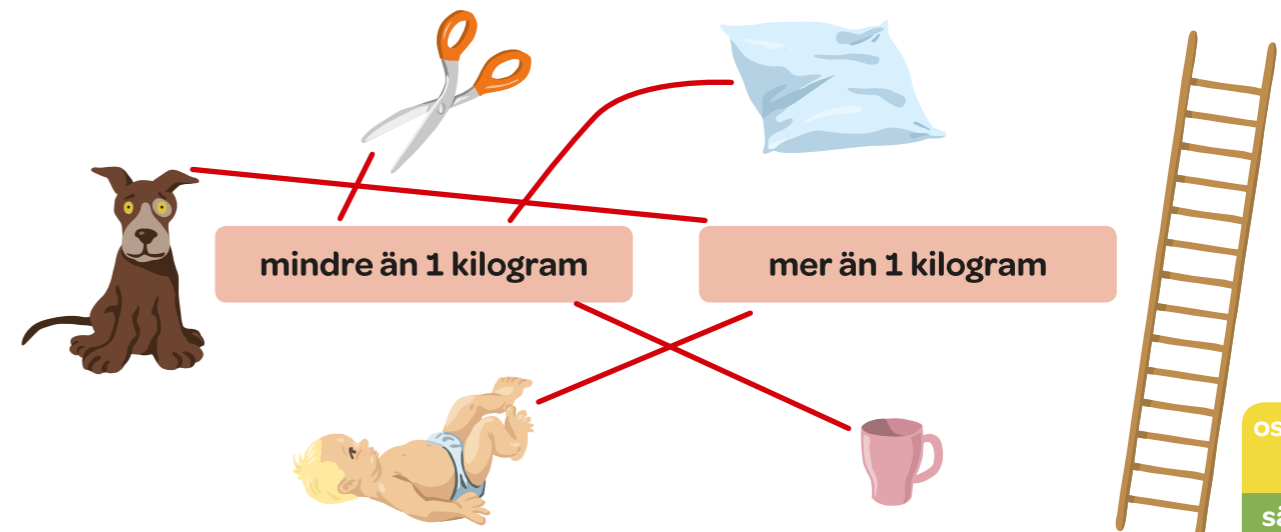


$70 + \underline{30} = 100$

$40 + \underline{60} = 100$

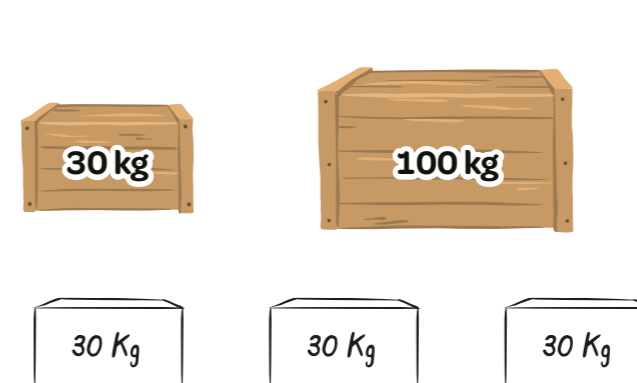
osäker
säker

39 Uppskatta vikten. Dra streck.



osäker
säker

40 Hur många små lådor väger ungefär lika mycket som den stora?



Svar: 3 små lådor

osäker
säker