



Krokodiler och hela tiotal



10	20	30	40	50
60	70	80	90	100

Addera hela tiotal

- Skriv talet som fattas.

$$40 + 10 + \underline{50} = 100$$

$$70 + 20 + \underline{10} = 100$$

$$20 + 40 + \underline{40} = 100$$

$$10 + 60 + \underline{30} = 100$$

$$100 = 50 + \underline{0} + 50$$

$$100 = 60 + \underline{10} + 30$$

$$100 = 40 + \underline{30} + 30$$

$$100 = 30 + \underline{20} + 50$$

- Du kastar prick med fyra bollar.

Hur kan du få 70 poäng på olika sätt?

$$\underline{30 + 20 + 10 + 10 = 70}$$

$$\underline{20 + 20 + 20 + 10 = 70}$$

$$\underline{30 + 30 + 10 + 0 = 70}$$

Hur kan du få 90 poäng på olika sätt?

$$\underline{30 + 30 + 20 + 10 = 90}$$

$$\underline{30 + 20 + 20 + 20 = 90}$$

$$\underline{30 + 30 + 30 + 0 = 90}$$

Hur många poäng kan du högst få?

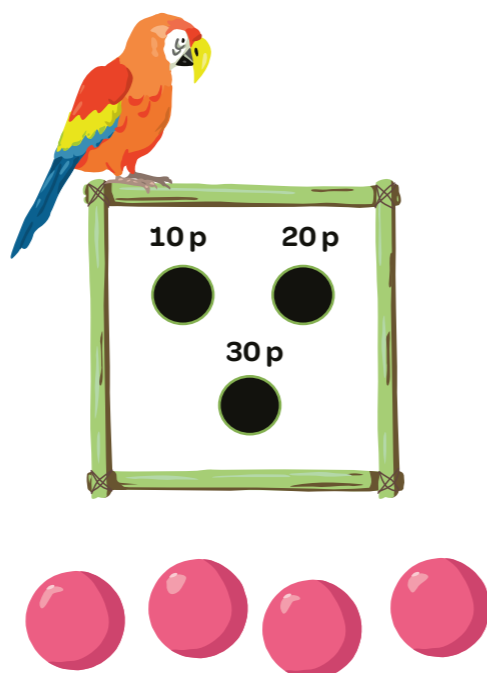
$$\underline{30 + 30 + 30 + 30 = 120}$$

Svar: 120 poäng

Hur många poäng kan du minst få?

$$\underline{10 + 10 + 10 + 10 = 40}$$

Svar: 40 poäng



(alt. 0 poäng vid ingen träff.)

Subtrahera hela tiotal

- Du har 80 kronor och köper en av sakerna.
Hur mycket har du kvar?

Svar: _____ kr

Det finns flera lösningar.

- Du har 90 kronor och köper en av sakerna.
Hur mycket har du kvar?

Svar: _____ kr

Det finns flera lösningar.

- Du har 20 kronor.
Hur mycket fattas för att du ska kunna köpa _____?

$$\underline{30 - 20 = 10}$$

Svar: 10 kr

- Skriv talet som fattas.

$$70 - \underline{20} = 50$$

$$50 - \underline{10} = 40$$

$$90 - \underline{40} = 50$$

$$30 - \underline{10} = 20$$

$$80 - \underline{50} = 30$$

$$60 - \underline{50} = 10$$

$$50 - \underline{20} = 30$$

$$90 - \underline{80} = 10$$


$$40 - \underline{20} = 20$$

$$70 - \underline{30} = 40$$

$$60 - \underline{40} = 20$$









$$80 - \underline{60} = 20$$

- Måla hinkar med differensen 20.

















Växla pengar

► Dela lika. Rita hur mycket pengar varje mattekompis får.

		
20  	20	20
100	50	50
50 	20 	20 
20  50	20 20	20 20

Växla pengarna och
pröva dig fram.



			
50 	20	20	20
20 			
50  	20 	20 	20 
100 	20 20	20 20	20 20

Årets djurskötare

► Räkna ut. Skriv bokstaven.

Vad heter årets djurskötare på zoo?

$30 + 20$	$90 - 80$	$30 + 40$	$10 + 60$	$60 - 40$	$80 - 70$	$30 + 30$
M	A	T	T	I	A	S

$40 - 30$	$20 + 20$	$40 + 10$	$90 - 60$	$50 + 30$	$70 - 50$	$20 + 40$	$100 - 30$
A	L	M	K	V	I	S	T

Vad gillar han att göra?

$80 - 50$	$40 - 20$	$20 + 50$	$40 + 30$	$90 - 50$	$20 - 10$	$70 - 10$
K	I	T	T	L	A	S

Vilken är hans favoritfärg?

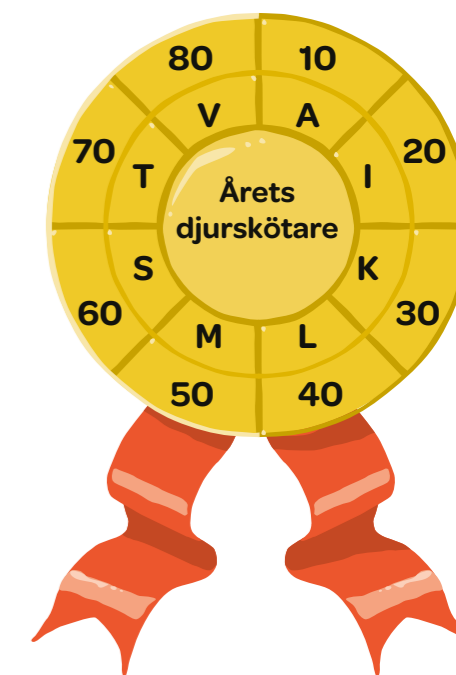
$80 - 40$	$10 + 10$	$100 - 60$	$60 - 50$
L	I	L	A

Vad brukar han göra på lördagar?

$100 - 40$	$50 - 30$	$10 + 40$	$70 - 20$	$30 - 20$
S	I	M	M	A

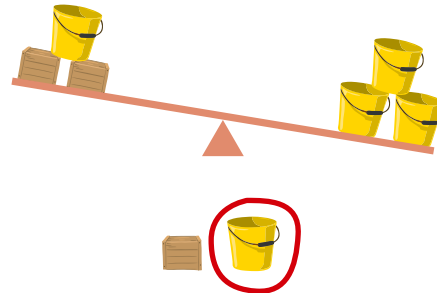
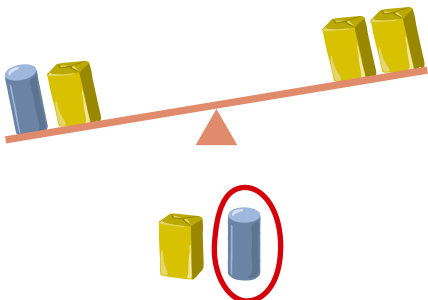
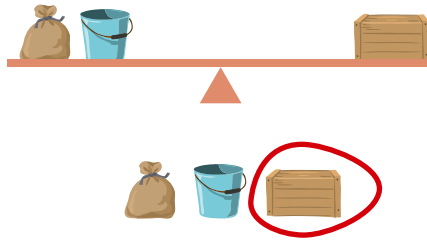
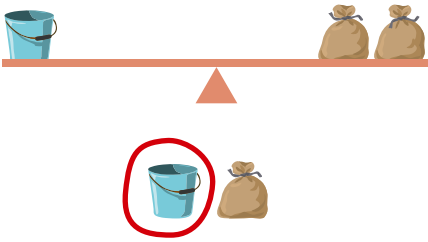
Vad heter hans dotter?

$50 + 10$	$100 - 50$	$100 - 80$	$10 + 30$	$70 - 30$	$30 - 20$
S	M	I	L	L	A



Vikt

► Vilket föremål väger mest i varje uppgift? Ringa in.



► Mannen väger 70 kilogram.
Hur mycket väger hinken?

$$90 - 70 = 20$$

Svar: 20 kg



► Kvinnan väger 60 kilogram.
Hur mycket väger lådan?

$$90 - 60 = 30$$

Svar: 30 kg



► Välj föremål. De ska väga 16 kilogram tillsammans. **Det finns flera lösningar.**

lösning 1

$$8 + 8 = 16$$

lösning 2

$$5 + 5 + 4 + 2 = 16$$

